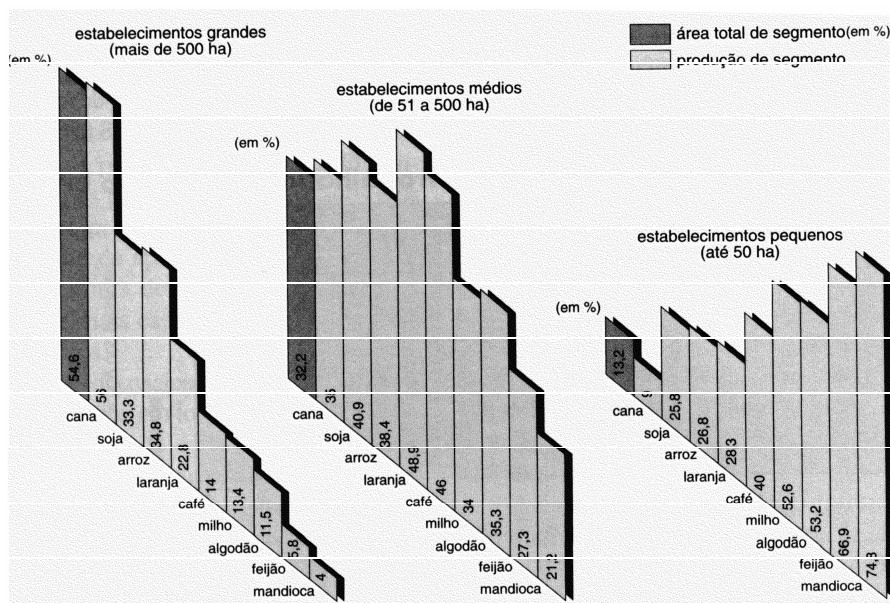


GEOGRAFIA – QUESTÕES DE 41 A 45

41. Observe o gráfico abaixo:

Comparação entre a área ocupada por diferentes grupos de estabelecimentos e sua contribuição na produção de gêneros alimentícios



Fonte: ROSA, Antônio Vítor. **Agricultura e Meio Ambiente**. São Paulo: Atual, 1998. (Série Meio Ambiente). Adaptado.

De acordo com o gráfico acima é CORRETO afirmar que:

- os pequenos estabelecimentos ocupam o maior percentual da área cultivada e têm produção significativa de alimentos.
- os grandes estabelecimentos ocupam o maior percentual da área cultivada e não produzem gêneros alimentícios importantes.
- os estabelecimentos médios ocupam o menor percentual da área cultivada e têm pouca expressão na produção de alimentos.
- os gêneros alimentícios voltados para exportação são produzidos apenas nos grandes estabelecimentos.
- os pequenos estabelecimentos ocupam o menor percentual da área cultivada, porém produzem grande quantidade de alimentos.

42. Analise o quadro abaixo, que indica o processo de desmatamento nas regiões Norte e Centro-Oeste:

EVOLUÇÃO DA ÁREA DESMATADA POR ESTADO km²

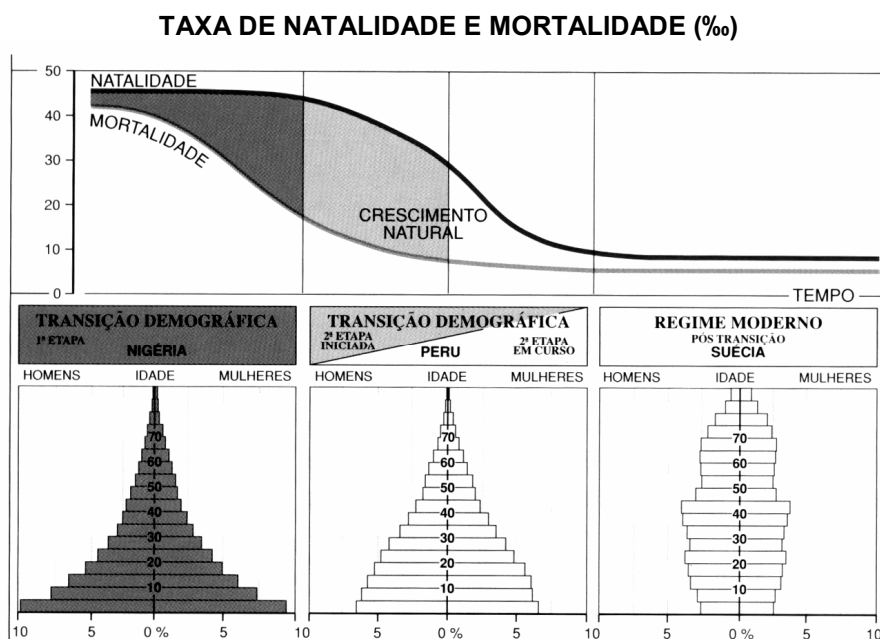
Estados	2002/2003	2003/2004	Evolução
Mato Grosso	10.458	12.586	+ 20%
Pará	6.880	6.724	- 2%
Rondônia	3.369	4.141	+ 23%
Amazonas	1.734	1.054	-39%
Acre	978	803	-18%
Maranhão	986	725	-26%
Tocantins	190	107	-44%
Roraima	3	-	-
Total	24.597	26.130	+6%

Fonte: **O GLOBO**, 21 de maio de 2005.

Com base na análise é INCORRETO afirmar que o processo de desmatamento está associado:

- a) ao crescimento da produção de soja.
- b) à apropriação de terras para pecuária.
- c) à criação de parques e reservas florestais.
- d) ao intenso processo de urbanização.
- e) à ação das madeireiras.

43. Observe a figura abaixo:

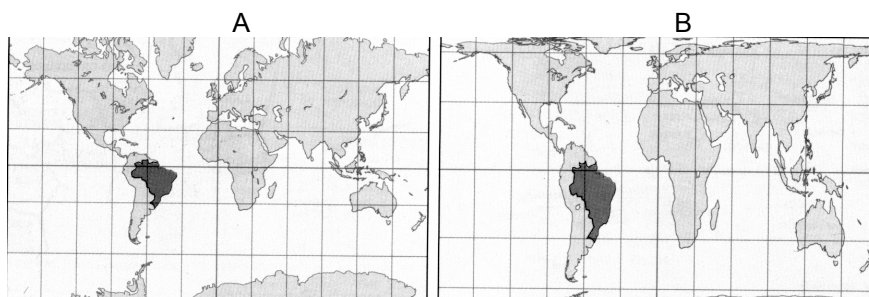


Fonte: FERREIRA, Graça Maria Lemos. **Atlas Geográfico: Espaço Mundial**. São Paulo: Moderna, 2003. p. 87.

Com base na figura e nos conhecimentos necessários a sua análise, é **INCORRETO** afirmar que:

- as pirâmides dos países representados refletem três momentos distintos do processo de transição demográfica.
- a pirâmide da Nigéria demonstra uma situação característica de países subdesenvolvidos.
- a pirâmide do Peru reflete o processo de transição demográfica em função da diminuição nas taxas de mortalidade.
- a pirâmide da Nigéria caracteriza-se por apresentar baixa taxa de natalidade e alta taxa de mortalidade.
- a pirâmide da Suécia demonstra um perfil demográfico característico de países desenvolvidos.

44. Observe os mapas abaixo:



Fonte: FERREIRA, Graça Maria Lemos. **Atlas Geográfico: Espaço Mundial**. São Paulo: Moderna, 2003. p. 6.


Sabendo-se que A se refere à Projeção de Mercator e B à de Peters, atribua V para as afirmativas verdadeiras e F para as falsas:

- () A projeção A conserva os ângulos verdadeiros das áreas.
- () A projeção B guarda a proporcionalidade das áreas.
- () A projeção A altera os ângulos e mantém as formas das áreas.
- () A projeção B altera a proporcionalidade entre as áreas.

A seqüência CORRETA é:

- a) V, V, F, F.
- b) V, F, V, V.
- c) F, V, V, V.
- d) F, F, V, F.
- e) V, V, V, F.

45. Observe a figura abaixo:



Fonte: SENE, Eustáquio de; MOREIRA, João Carlos. **Espaço Geográfico e Globalização**. São Paulo: Scipione, 1999. p. 41.

No que se refere ao processo de globalização ilustrado pela figura, assinale a afirmativa INCORRETA:

- a) A expansão das transnacionais por todo o planeta promoveu a integração de diferentes mercados.
- b) A distribuição democrática da produção e consumo é resultado da difusão das empresas transnacionais.
- c) A mundialização integrou mercados produtores e consumidores a partir da expansão das transnacionais.
- d) A globalização se caracteriza por ser uma nova fase do capitalismo mundial sustentada pela publicidade e propaganda.
- e) O processo de globalização difundiu novos hábitos de consumo a partir da ação das empresas transnacionais.