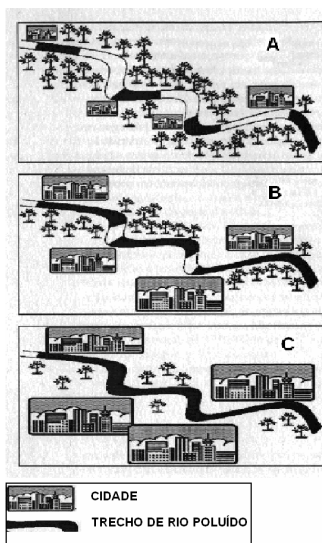


GEOGRAFIA – QUESTÕES DE 01 A 05

01. Observe as figuras abaixo, que apresentam momentos distintos do processo de urbanização e poluição dos cursos d'água.

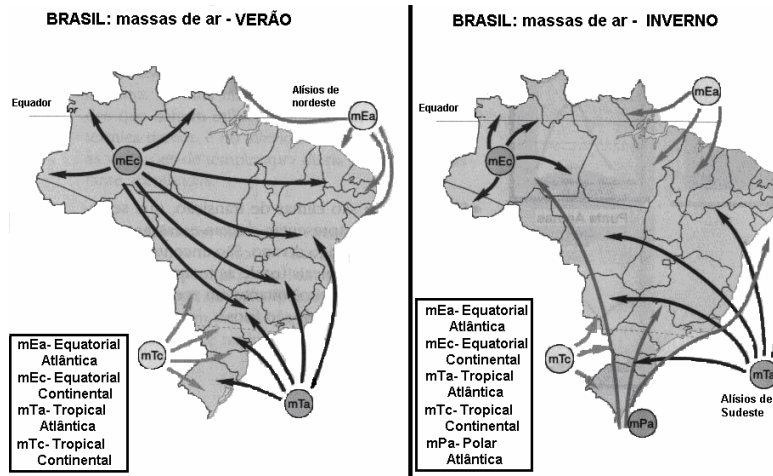


(CAMARGO, A. F. M.; PEREIRA, A. de M. M. Qualidade da água em áreas urbanas. In: BRAGA, R.; CARVALHO, P. F. de. **Recursos hídricos e planejamento urbano e regional**. Rio Claro: DEPLAN/UNESP-IGCE, 2003. p. 49-63.)

Com base na observação e análise da figura, responda:

- Qual das situações – A, B ou C – apresenta maior grau de urbanização?
- Compare as situações A e C quanto à poluição do curso d'água e à preservação da vegetação.
- Indique duas causas de poluição dos cursos d'água em regiões urbanas.

02. Os mapas abaixo representam o comportamento das massas de ar no verão e inverno brasileiros:



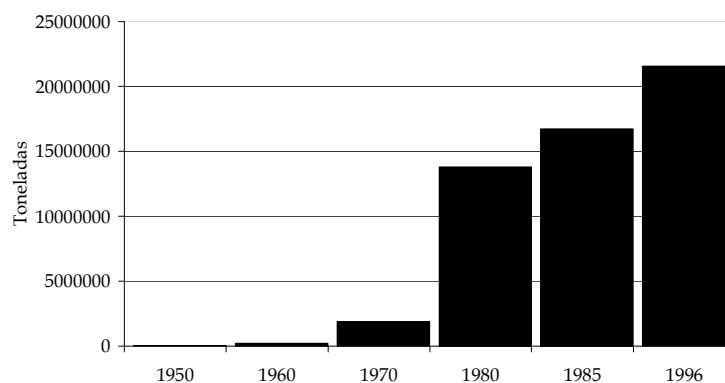
(SENE, E. de; MOREIRA, J. C. **Geografia Geral e do Brasil: espaço geográfico e globalização**. São Paulo: Scipione, 1998.)

Com base na leitura dos mapas e em seus conhecimentos, responda:

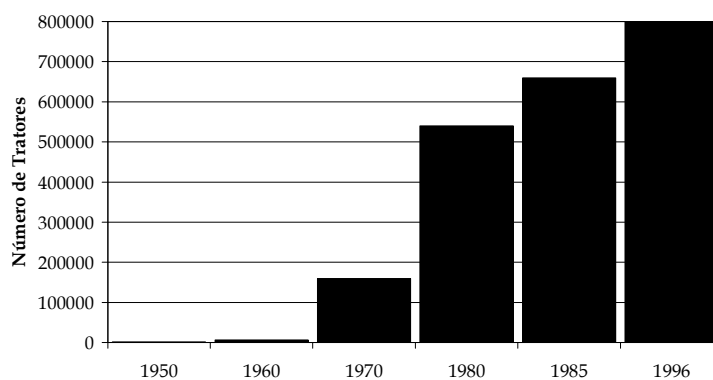
- Qual é a massa de ar responsável pela queda de temperaturas observada durante o inverno nas regiões Sul e Sudeste do Brasil?
- Qual é a massa de ar que mais atua no território brasileiro no verão?
- Compare a atuação da Massa de Ar Equatorial Continental (mEc) no verão e no inverno brasileiros.

03. Observe os gráficos abaixo:

Evolução da produção de soja - Brasil - 1950 - 1996



Evolução do Número de Tratores - Brasil - 1950 - 1996

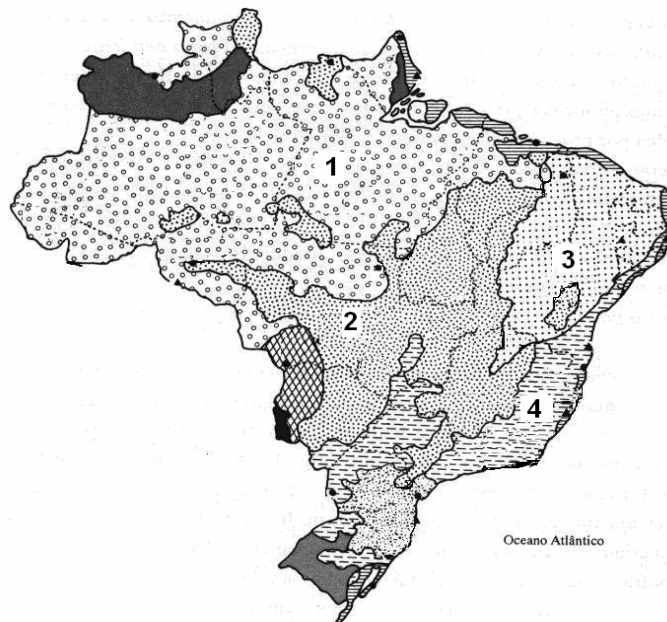


(Fonte: CENSO AGROPECUÁRIO. Disponível em: <<http://www.ibge.gov.br>>. Acessado em: 15 out. 2004. Adaptado.)

Com base na análise dos gráficos, responda às questões a seguir:

- A partir da comparação dos gráficos acima, relacione a produção de soja e o número de tratores no Brasil.
- Relacione os dados apresentados nos gráficos e o processo de transformação da agricultura brasileira.

04. Observe o mapa abaixo, que mostra os tipos de vegetação que ocorrem no território brasileiro.



(ROSS, Jurandyr L. Sanches (Org.) **Geografia do Brasil**. São Paulo: Editora da Universidade de São Paulo, 2001.)

Com base na análise do mapa e em seus conhecimentos, responda às questões abaixo:

- Que tipo de vegetação ocorre na área representada pelo número 4?
- Aponte um problema socioambiental encontrado na área representada pelo número 1.
- Qual dos tipos de vegetação foi mais degradado pela expansão da fronteira agrícola, ocorrida após a década de 70 do século XX?

05. Leia o artigo abaixo, originalmente publicado em um jornal de grande circulação dos EUA, que ressalta a imagem negativa deste país no mundo árabe. Essa imagem, longe de ser gratuita, foi construída tanto pelo apoio incondicional à política do Estado de Israel, como pelas duas guerras no Iraque e pela intervenção no Afeganistão.

SHOW DO HEZBOLLAH NA TV

Programa de perguntas irrita EUA

BEIRUTE. Responda rápido: qual prédio foi construído em 1792 e se tornou símbolo da opressão mundial? A questão, cuja resposta é a Casa Branca, faz parte do programa de perguntas “A missão”, da TV libanesa al-Manar, pertencente ao Hezbollah. O show, que faz sucesso entre os espectadores, está irritando o governo americano.

Os participantes, dispostos num tabuleiro virtual, vão percorrendo as casas a cada pergunta respondida corretamente. Quem chegar primeiro à última, que simboliza a tomada de Jerusalém, ganha US\$ 3 mil.

– Acho muito interessante este programa pois ele sempre faz questão de lembrar nas perguntas que a Palestina está sob ocupação – disse o professor de física Ihab Abi Nassif, um dos participantes do jogo.

A Embaixada dos Estados Unidos em Beirute disse nesta semana estar monitorando o programa, que “incita a formação de novos terroristas”.

(O Globo. 3 maio 2004.)

Considerando a situação atual no Oriente Médio, responda:

- a) O que torna essa região estratégica para a geopolítica americana?
- b) Por que um dos participantes do jogo no show da TV libanesa afirma que a Palestina está sob ocupação?