

**GEOGRAFIA – QUESTÕES DE 41 A 50**

41. Leia o trecho abaixo:

*Considera-se, em economia, o desenvolvimento sustentável como a capacidade de as sociedades sustentarem-se de forma autônoma, gerando riquezas e bem-estar a partir de seus próprios recursos e potencialidades. [...] Já o desenvolvimento ecologicamente sustentável é definido como a garantia de progresso material e bem-estar social resguardando os recursos e o patrimônio natural dos diferentes povos e países.*

(GIANSANTI, Roberto. **O desafio do desenvolvimento sustentável**. São Paulo: Atual, 1998. p. 13.)

A perspectiva do desenvolvimento sustentável leva a sociedade a questionar uma série de práticas. Assinale a alternativa que NÃO constitui prática adequada aos princípios do desenvolvimento sustentável:

- a) Adotar o padrão de consumo dos norte-americanos.
- b) Buscar o desenvolvimento econômico para toda a sociedade.
- c) Modificar os hábitos de consumo, evitando desperdício.
- d) Utilizar tecnologias que evitem a poluição e gastem menos energia.
- e) Reciclar sempre que possível matéria-prima e energia.

42. Leia os trechos a seguir, extraídos do poema “O rio”, de João Cabral de Melo Neto:

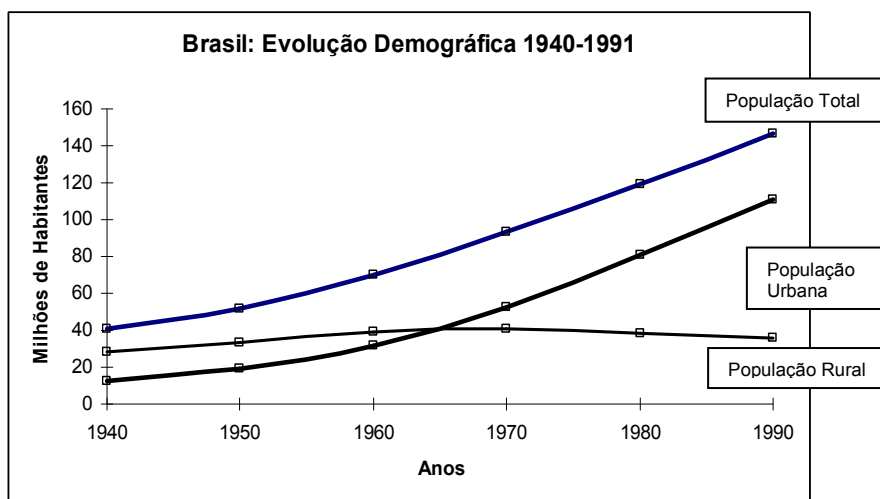
- |   |   |
|---|---|
| (I) <i>Os rios que eu encontro<br/>vão seguindo comigo.<br/>Rios são de água pouca,<br/>em que a água sempre está por<br/>um fio.<br/>Cortados no verão<br/>que faz secar todos os rios.<br/>[...]</i>  | (III) <i>As casas não são muitas<br/>que por aqui tenho<br/>encontrado<br/>(os povoados são raros que<br/>a cana não tenha<br/>expulsado)<br/>[...]</i>                   |
| (II) <i>[...]<br/>Contam por que possuem<br/>aquela pele tão espessa;<br/>Por que todos caminham<br/>com aquele ar descalço de<br/>negros;<br/>por que descem tão tristes<br/>arrastando lama e silêncio.<br/>A história é uma só<br/>Que os rios sabem dizer:<br/>A história dos engenhos<br/>Com seus fogos a morrer.<br/>[...]</i> | (IV) <i>Ao entrar em Recife<br/>Não pensem que entro só.<br/>Entra comigo a gente<br/>que comigo baixou<br/>por essa velha estrada<br/>que vem do interior;<br/>[...]</i> |

(MELO NETO, João Cabral de. **Morte e vida Severina e outros poemas para vozes**. Rio de Janeiro: Nova Fronteira, 1994. p. 5, 12, 13, 18.)

Com base na análise do poema e em conhecimentos sobre o Nordeste brasileiro, assinale a afirmativa INCORRETA:

- a) No trecho IV o poeta revela o processo de êxodo rural que ocorre na região.
- b) No trecho I aparece uma característica comum da região, rios perenes com grande volume de água.
- c) No trecho II aparece uma denúncia da poluição dos rios da Zona da Mata Nordestina pelas usinas de cana-de-açúcar.
- d) No trecho III o poeta revela a expropriação da terra e a expulsão da população rural por meio do avanço da monocultura da cana.
- e) Nos trechos selecionados é possível perceber problemas do Sertão e da Zona da Mata Nordestina.

43. Analise o gráfico abaixo:



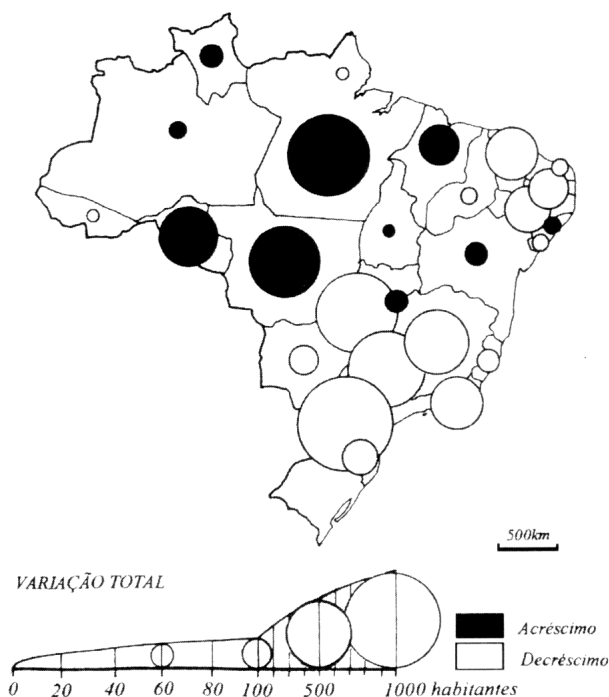
(Fonte: MARTINELLI, Marcello. **Gráficos e Mapas**: Construa-os você mesmo. São Paulo: Moderna, 1998. p. 39. Adaptado.)

Com base na análise do gráfico acima e em conhecimentos sobre a evolução demográfica brasileira, assinale a afirmativa CORRETA:

- Devido aos investimentos no setor industrial a partir da década de 50, o Brasil se tornou urbano.
- As migrações do campo para a cidade elevaram a taxa de urbanização somente a partir da década de 60.
- O processo de reconcentração industrial foi responsável pela definição das regiões metropolitanas a partir da década de 40.
- O afluxo populacional para as cidades, principalmente do Sudeste, tornou o Brasil um país urbano a partir da década de 70.
- Em função da diminuição do fluxo migratório a partir da década de 80, o país tem se tornado mais agrário.

44. Leia o mapa abaixo:

BRASIL: VARIAÇÃO ABSOLUTA DA POPULAÇÃO  
RESIDENTE RURAL – 1980/1991




(Fonte: MARTINELLI, M.. **Mapas da Cartografia e Cartografia Temática**. São Paulo: Contexto, 2003. p. 80.)

Com base na leitura do mapa, assinale a afirmativa CORRETA:

- a) O mapa representa o crescimento da população urbana e rural nos estados brasileiros.
- b) Os estados da região Norte apresentaram a mesma variação absoluta da população residente rural.
- c) Os estados da região Sudeste apresentaram acréscimos na população residente na zona rural.
- d) A escala é representada de forma gráfica, onde uma unidade no mapa corresponde a 500 km na superfície terrestre.
- e) Todos os estados da região Nordeste apresentaram acréscimo na população rural.

45. Observe a figura abaixo, que representa a morfologia de um dos domínios morfoclimáticos brasileiros.



(Fonte: CASSETI, Valter. **Elementos de geomorfologia**. Goiânia: Ed. UFG, 1994. Adaptado.)

Com relação ao domínio representado, assinale a afirmativa INCORRETA:

- a) A estrutura geológica propiciou o aparecimento de minério de ferro, facilitando a instalação de indústrias siderúrgicas e extrativas.
- b) A atividade agropecuária e o processo urbano-industrial foram os principais responsáveis pela destruição da vegetação nativa.
- c) A morfologia permitiu a introdução da produção de grãos para a exportação, sobretudo após a década de 70 do século XX.
- d) Em sua área estão localizadas as duas metrópoles nacionais, com grande concentração populacional.
- e) Em virtude do acelerado processo de ocupação, restam poucos trechos preservados de sua vegetação primária.

46. Leia o trecho abaixo:

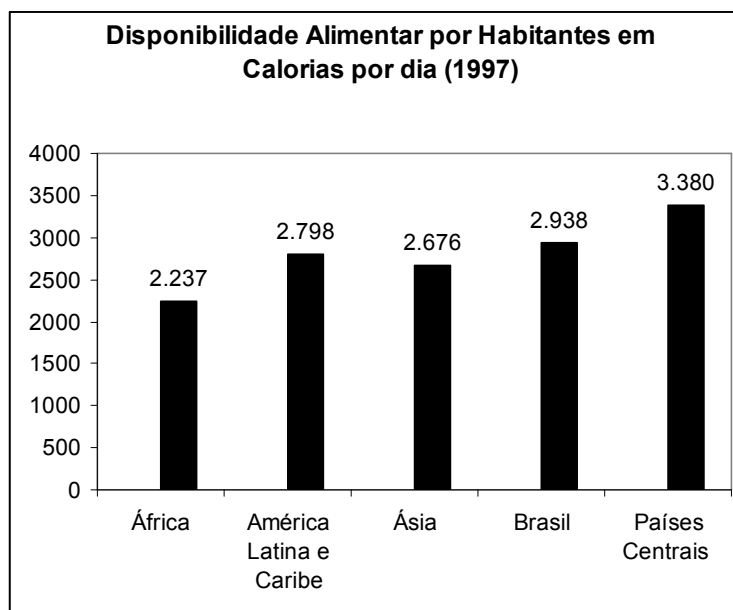
*O terceiro século da invasão européia da Mata Atlântica reduziu consideravelmente sua extensão. A mineração, a lavoura e a engorda de gado no sudeste podem ter eliminado, durante o século XVIII, trinta mil quilômetros quadrados. Tão ampla, completa e irreversível havia sido a eliminação da floresta em Minas Gerais durante o século XVIII que Karl Friedrich Phillip Von Martius, o mais famoso dos botânicos acolhidos no Brasil nos anos de 1810, foi levado a supor que a região do ouro e do diamante a sudoeste de Minas Gerais, e a região nordeste da cidade de São Paulo nunca haviam tido floresta mas eram constituídas de campos gramados nativos. Von Martius não consultou a população rural, que fazia uma distinção clara entre campos naturais e a terra de floresta derrubada.*

(DEAN, Warren. **A ferro e fogo**: a história e a devastação da Mata Atlântica brasileira. São Paulo: Cia. das Letras, 2000. p. 131-132.)

Ao chamar a atenção para a falsa suposição de Von Martius, o autor do trecho ressalta o conceito de paisagem. Em relação a este conceito, é INCORRETO afirmar que:

- a) revela a paisagem como sendo resultado da interação entre a sociedade e a natureza.
- b) retrata a paisagem como um reflexo de sucessivas transformações ocorridas no espaço.
- c) reflete a paisagem como uma adaptação constante dos elementos naturais às necessidades da sociedade.
- d) apresenta a paisagem representando diferentes momentos do desenvolvimento da sociedade.
- e) define a paisagem como um resultado da interligação de elementos exclusivamente naturais.

47. Observe o gráfico abaixo:

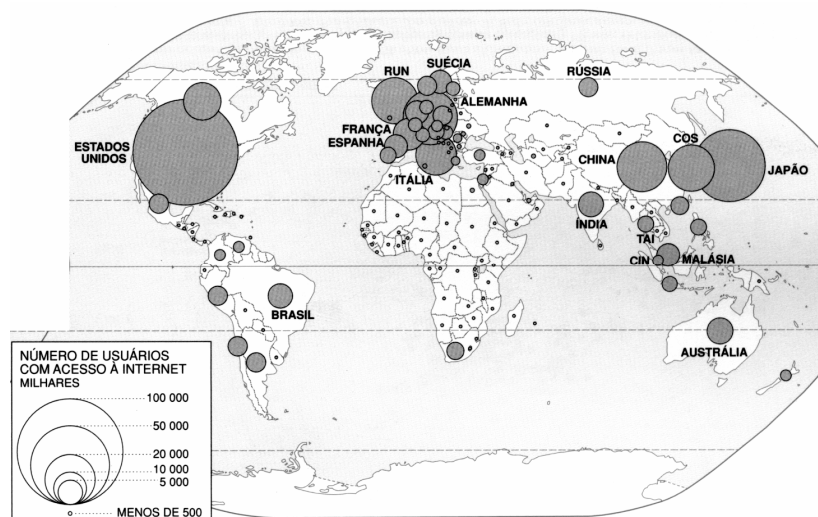


(Fonte: COELHO, Marcos Amorim; TERRA, Lygia. **Geografia Geral**: o espaço natural e socioeconômico. São Paulo: Moderna, 2001. Adaptado.)

Com base no gráfico acima e nos conhecimentos necessários a sua interpretação, assinale a afirmativa INCORRETA:

- a) O baixo consumo de calorias na África está relacionado à utilização das melhores terras para o cultivo de produtos tropicais de exportação.
- b) Na Ásia, a introdução do sistema de *plantation* destruiu a economia ancestral, alterando a relação entre produção e consumo.
- c) Na América Latina e Caribe, o baixo consumo de calorias se explica pela submissão da atividade agrícola ao mercado internacional.
- d) O alto consumo de calorias nos países centrais está relacionado a sua posição privilegiada na divisão internacional do trabalho.
- e) No Brasil, o baixo consumo de calorias está relacionado ao modelo agrícola destinado ao mercado interno.

48. Observe o mapa abaixo, que representa o número de usuários com acesso à internet, um poderoso veículo de transmissão de informação e um dos sustentáculos do recente cenário de globalização.



(Fonte: FERREIRA, Graça Maria Lemos. **Atlas Geográfico: espaço mundial**. São Paulo: Moderna, 2003, p.105.)

Com base no mapa e nos conhecimentos necessários a sua leitura, assinale a afirmativa INCORRETA:

- A concentração de informação reflete sua importância como instrumento de poder no mundo desenvolvido.
- O mapa revela os benefícios da globalização produzidos a partir da democratização do acesso à informação.
- A centralização da informação produz e reproduz a concentração de capitais nos países centrais.
- A disparidade no acesso à informação é um desdobramento da organização do espaço produtivo mundial.
- O mapa, embora se referindo aos fluxos de informações, representa as históricas divisões entre o norte e o sul.



49. Leia o trecho abaixo:

*A economia informal urbana é constituída [...] por atividades variadas e heterogêneas como o comércio ambulante, barraqueiros e sacoleiros, alfaiatarias, malharias, perfumarias domésticas, aluguel de equipamentos diversos [...].*

*Freqüentemente a economia informal é também uma economia subterrânea, escapando à cobrança de tributos e às regulamentações legais do Estado.*

(MAGNOLI, D.; ARAUJO, R. **A nova Geografia**: estudos de Geografia do Brasil. 2. ed. São Paulo: Moderna, 2003. p. 223.)

Com relação à economia informal/subterrânea, assinale a afirmativa CORRETA:

- a) Amplia-se em decorrência da modernização do campo, dos baixos impostos e da fiscalização eficiente.
- b) Predomina nas pequenas e médias cidades, onde a fiscalização é pouco eficiente e há um elevado número de desempregados.
- c) Está ligada à economia formal, fornecendo mercadorias e serviços a preços baixos e comercializando produtos das indústrias.
- d) Gera renda entre as camadas ricas e possibilita o consumo de bens e mercadorias de alto valor, produzidos na economia formal.
- e) Respeita os direitos trabalhistas, pagando altos salários e os impostos previdenciários e cumprindo os horários de trabalho.

50. Observe o gráfico abaixo:



(Fonte: ROSA, Antônio Vítor. **Agricultura e meio ambiente**. São Paulo: Atual, 1998. Adaptado.)

De acordo com os dados do gráfico e os conhecimentos necessários a sua leitura, assinale a afirmativa que **NÃO** apresenta corretamente um problema ambiental decorrente do uso da água:

- O reduzido uso da água para abastecimento urbano indica um uso racional e ambientalmente adequado deste recurso nas cidades.
- O uso da água em usinas sucroalcooleiras tem provocado a poluição dos cursos d'água.
- O uso da água em atividades industriais tem gerado sérios problemas de poluição nos rios.
- A elevada demanda da água para a irrigação tem provocado a redução do seu volume em inúmeras regiões.
- A poluição das águas por agroquímicos tornou-se um problema grave nas regiões que empregam este recurso intensivamente.