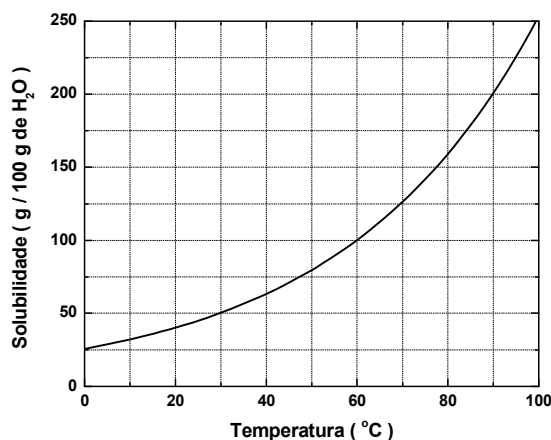


QUÍMICA – QUESTÕES DE 16 A 30




16. A solubilidade do nitrato de potássio (KNO_3), em função da temperatura, é representada no gráfico abaixo:



De acordo com o gráfico, assinale a alternativa que indica CORRETAMENTE a massa de KNO_3 , em gramas, presente em 750 g de solução, na temperatura de 30 °C:

- a) 375
- b) 150
- c) 100
- d) 500
- e) 250

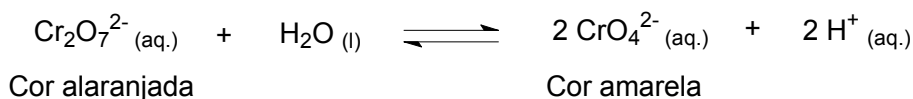
17. Considere os equilíbrios em meio aquoso, representados pelas equações I, II, III e IV.



Assinale a alternativa que contém as características ácido-base das soluções aquosas resultantes de cada um dos equilíbrios representados nas equações I, II, III e IV, respectivamente:

- a) Básico, ácido, neutro, ácido.
- b) Neutro, ácido, básico, ácido.
- c) Ácido, neutro, básico, neutro.
- d) Neutro, básico, ácido, básico.
- e) Ácido, neutro, ácido, neutro.

22. Em soluções aquosas o ânion dicromato está em equilíbrio dinâmico com o ânion cromato, segundo a reação representada por:



Adicionando-se uma substância X a um frasco contendo solução aquosa de $\text{K}_2\text{Cr}_2\text{O}_7$, observa-se alteração da cor alaranjada para amarela. Por outro lado, adicionando-se uma substância Y a outro frasco contendo a mesma solução, observa-se intensificação da cor alaranjada.

Assinale a alternativa que indica CORRETAMENTE uma das possibilidades para as substâncias X e Y, respectivamente:

- a) KOH, HCl.
 - b) H_2SO_4 , NaOH.
 - c) NaCl, HCl.
 - d) HCl, H_2SO_4 .
 - e) NaOH, KOH.
23. Para a limpeza de uma bancada de mármore, que contém principalmente carbonato de cálcio (CaCO_3), foi usada solução aquosa de ácido muriático (solução comercial de HCl). Quando se utilizou um pouco mais de solução de ácido muriático sobre a bancada, observou-se o borbulhamento de uma substância gasosa. Esta substância é:
- a) Cl_2
 - b) H_2
 - c) CO_2
 - d) HCl
 - e) H_2O
24. A acetona, uma substância líquida à temperatura ambiente e muito solúvel em água, é utilizada como solvente industrial. A solução aquosa da acetona é comercializada como solvente e removedor de esmalte. Sobre a acetona podem ser feitas as seguintes afirmativas:
- I. O seu nome sistemático é propanona.
 - II. A acetona pode ser obtida pela oxidação do propan-2-ol.
 - III. Por ser solúvel em água a acetona é uma substância inorgânica.
 - IV. A solubilidade da acetona em água se deve às ligações de hidrogênio que se formam entre estas duas substâncias.
 - V. A acetona pertence à classe dos ácidos carboxílicos.

A alternativa onde todas as afirmativas estão CORRETAS é:

- a) I, II e III.
- b) I, III e IV.
- c) III, IV e V.
- d) I, II e IV.
- e) II, IV e V.

25. Em 1919 Rutherford realizou a primeira transmutação artificial, descrita pela equação abaixo:

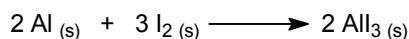


Nesta transformação o elemento berílio (Be) foi bombardeado por uma partícula alfa (α), sendo transmutado no elemento X e emitindo um nêutron (n).

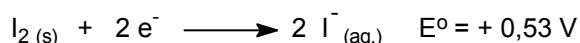
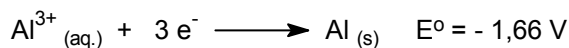
Assinale a alternativa que indica CORRETAMENTE o símbolo do elemento X, o seu número atômico (Z) e o seu número de massa (A), respectivamente:

- a) F, 6, 13.
- b) Li, 5, 9.
- c) Mg, 6, 9.
- d) Ar, 5, 15.
- e) C, 6, 12.

26. Recentemente foi publicado em uma revista científica de grande circulação mundial que pesquisadores chineses desenvolveram uma cela galvânica, baseada na reação entre alumínio metálico (Al) e iodo molecular (I_2), formando o iodeto de alumínio (AlI_3), conforme reação representada pela equação abaixo:



A seguir são dados os potenciais de redução do iodo (I_2) e do alumínio (Al), em volts, e são feitas cinco afirmativas sobre a cela galvânica:

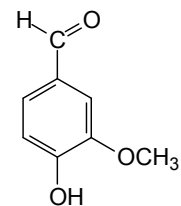


- I. O I_2 é mais oxidante que o Al.
- II. O Al tem maior capacidade de perder elétrons que o I_2 .
- III. Na reação, os elétrons são transferidos do alumínio para o iodo.
- IV. O eletrodo de Al é o catodo.
- V. A diferença de potencial padrão desta pilha é de +1,13 volts.

Assinale a alternativa que contém somente afirmativas VERDADEIRAS:


- a) I, II e III.
- b) I, IV e V.
- c) II, III e V.
- d) I, III e IV.
- e) III, IV e V.

27. A vanilina, representada ao lado, é uma substância aromatizante com sabor de baunilha, utilizada no preparo de pães, bolos e doces.




Assinale a alternativa que corresponda a uma função orgânica presente na estrutura da vanilina:

- a) Álcool.
 - b) Aldeído.
 - c) Alqueno.
 - d) Cetona.
 - e) Éster.
28. Vários compostos contendo a função carbamato são comercializados como inseticida. Um dos compostos mais simples desta classe é o carbamato de amônio. A sua decomposição ocorre de acordo com a equação dada abaixo.



Sendo a pressão total dos gases no equilíbrio, em um sistema fechado, igual a 0,120 atm a 25 °C, é CORRETO afirmar que o valor de K_p é:

- a) $1,20 \times 10^{-4}$
 - b) $1,60 \times 10^{-4}$
 - c) $4,80 \times 10^{-4}$
 - d) $6,40 \times 10^{-4}$
 - e) $2,56 \times 10^{-4}$
29. Oxigênio (O_2) pode ser obtido em laboratório pelo aquecimento do clorato de potássio (KClO_3), conforme equação abaixo representada.



A massa em gramas, aproximada, de oxigênio produzida pela decomposição de 24,5 g de KClO_3 é:

- a) 7,20
- b) 16,0
- c) 9,60
- d) 3,20
- e) 96,0

30. Considere a reação hipotética representada por $A + B \longrightarrow C + D$. As variações de concentração e velocidade da reação observadas em um intervalo de tempo são mostradas no quadro abaixo:

Concentração / (mol L ⁻¹)		Velocidade (mol L ⁻¹ min ⁻¹)
[A]	[B]	
1,0	1,0	0,15
2,0	1,0	0,30
3,0	1,0	0,45
1,0	2,0	0,15
1,0	3,0	0,15

Considerando as informações do quadro, a alternativa que apresenta a expressão CORRETA da velocidade para a reação hipotética é:

- a) $v = k \cdot [A] \cdot [B]$
- b) $v = k \cdot [B]$
- c) $v = k \cdot [A]^3 \cdot [B]^3$
- d) $v = k \cdot [A]$
- e) $v = k \cdot 3[A] \cdot [B]$